






Nr	Jautājumi - vidusskola	Pareizā atbilde
1	Atzīmē skaitļu 8, 12, 19 pareizo skaidrojumu:	Latvijas deputātu skaits Eiropas Parlamentā, zvaigžņu skaits Eiropas Savienības karogā, eirozonas valstu skaits
2	Māstrihtas līgums ir:	1992. gada 7. februāra līgums, ar kuru uz Eiropas Kopienu pamata tika nodibināta Eiropas Savienība
3	Apskati monētu un atzīmē, kam par godu tā izdota un kas uz tās attēlots: 	Eiropas Savienības 50. gadadienai. Uz tās attēlots Kapitolija laukums Romā, kur 1957. gada 25. martā tika parakstīts Romas līgums
4	Eiropas Savienības augstākā virsotne ir:	Monblāns
5	Šis nav pareizs Eiropas Savienības karogs, jo: 	zvaigznes nav pareizi izvietotas aplī: tām jābūt tajās pašās vietās, kur stundām pulksteņa ciparnīcā

6	28 Eiropas Savienības (ES) dalībvalstu galvaspilsētas sākas ar dažādiem alfabēta burtiem. Bet 5 galvaspilsētu nosaukumi sākas ar burtu B. Atzīmē ES valstu galvaspilsētas:	Brisele, Bukareste, Bratislava, Budapešta, Berlīne
7	Uz cik gadiem Eiropas Parlamenta vēlēšanās ievēlē deputātus:	pieciem
8	Latvijas Republikā tiesības vēlē Eiropas Parlamentu ir:	Latvijas pilsonim un Eiropas Savienības pilsonim, kurš uzturas (ir iekļauts Latvijas ledzīvotāju reģistrā) Latvijas Republikā; personai, kura vēlēšanu dienā sasniegusi 18 gadu vecumu
9	CE simbols apstiprina, ka: 	preces projektēšana un izgatavošana atbilst visām Eiropas Savienības (ES) izvirzītajām prasībām; ir veiktas preces atbilstības novērtēšanas procedūras (laboratorijas testi u. c.); ražotājs ir ievērojis savus pienākumus saskaņā ar ES direktīvām
10	Latvijas Republikā tiesības kandidēt Eiropas Parlamenta vēlēšanās ir:	Latvijas pilsonim; Eiropas Savienības pilsonim, kurš uzturas (iekļauts Latvijas ledzīvotāju reģistrā) Latvijas Republikā; personai, kura vēlēšanu dienā sasniegusi 21 gada vecumu
11	1 un 2 eiro monētas aversa puses dizains simbolizē:	Eiropu bez robežām
12	Atzīmē pareizo apgalvojumu! 	Zaļā ekolapa ir Eiropas Savienības bioloģiskais/ekoloģiskais marķējums
13	Šis izdevums ietver: 	pārdomas un scenārijus attiecībā uz Eiropas Savienības nākotni 27 valstu sastāvā līdz 2025. gadam

14	Atzīmē Eiropas Savienības vadošo institūciju priekšsēdētājus:	A. Tajani, Ž. K. Junkers, D. Tusks
15	Šengenas zonā ietilpst:	26 Eiropas valstis (22 no tām ir ES dalībvalstis), kā arī Islande, Lihtenšteina, Norvēģija un Šveice
16	Pilsoniskā līdzdalība ir:	indivīda vai grupu aktivitātes, kuru mērķis ir ietekmēt valsts politiku. Aktīva pilsoniskā līdzdalība sekmē iedzīvotāju vajadzību sadzirdēšanu, kvalitatīvu lēmumu pieņemšanu, stiprina demokrātiju
17	„Erasmus+” ir:	Eiropas Savienības programma, kas atbalsta izglītību, apmācības, jaunatnes un sporta jomu Eiropā
18	Atzīmē pareizo apgalvojumu:	eirozonā ietilpst tikai Eiropas Savienības dalībvalstis, taču arī vēl citas valstis lieto eiro kā vienīgo maksāšanas līdzekli
19	Atzīmē pareizo apgalvojumu:	Eiropas Parlamenta deputātu skaits tiek aprēķināts no katras dalībvalsts iedzīvotāju skaita
20	Latvijas Republikas pamatlikums ir:	Latvijas Republikas Satversme
21	Personas datu aizsardzība un privātās dzīves neaizskaramība ir nozīmīgas pamattiesības. Eiropas Savienības datu aizsardzības regula nostiprinās:	iedzīvotāju tiesības pilnībā kontrolēt savus datus un privātās dzīves neaizskaramību
22	Apskati datu regulas (stājas spēkā 2018. gada 25. maijā) infografiku un atzīmē pareizo apgalvojumu:	 <p>Labāka personas datu aizsardzība</p> <p>Lai apstrādātu datus, jāsaņem nepārprotama piekrišana</p> <p>Ierobežojumi attiecībā uz datu automatizētu apstrādi lēmumu pieņemšanai, piemēram, "profilēšanas" gadījumā</p> <p>Tiesības labot vai izdzēst datus, tostarp, "tiesības tikt aizmirstam" attiecībā uz datiem, kas savākti bērna vecumā</p> <p>Plašāka un skaidrāka informācija par apstrādi</p> <p>Tiesības pārvietot datus no viena pakalpojuma sniedzēja pie cita</p> <p>Vieglāka piekļuve personas datiem</p> <p>Tiesības saņemt paziņojumu, ja datu drošība ir apdraudēta</p> <p>Stingrāka aizsardzība attiecībā uz personas datu nosūtīšanu ārpus ES</p>
23	Atzīmē pareizo apgalvojumu!	 <p>„ManaBalss” ir politiskās līdzdalības forma internetā. Iniciatīvas var ierosināt un parakstīt ikviens Latvijas pilsonis, kurš sasniedzis 16 gadu vecumu. Katra iniciatīva, ko internetā paraksta vismaz 10 000 pilsoņu un kas atbilst Saeimas juridiskajiem kritērijiem, nonāk Saeimā</p>

24	<p>Kuras Eiropas Savienības institūcijas logotips šis ir, un ko šī institūcija dara:</p>  <p>Eiropas Komisija</p>	<p>Eiropas Komisija. Ierosina jaunus likumus un seko līdzī, kā katra valsts tos ievieš dzīvē</p>
25	<p>Kuras Eiropas Savienības institūcijas logo šis ir, un ko šī institūcija dara:</p>  <p>European Parliament</p>	<p>Eiropas Parlaments. Vienīgā Eiropas Savienības (ES) pilsoņu tieši ievēlētā institūcija. Pieņem ES likumus, kas ietekmē katru cilvēka ikdienas dzīvi</p>
26	<p>Atzīmē vārdu rindu, kas precīzi apraksta vienoto digitālo tirgu Eiropā:</p>	<p>viesabonēšanas maksas atcelšana, datu aizsardzības modernizācija, nepamatotas ģeogrāfiskās bloķēšanas izbeigšana, tirdzniecība tiešsaistē, iedzīvotāju digitālo prasmju pilnveide</p>
27	<p>https://ec.europa.eu/commission/index_lv Šī ir saite uz:</p>	<p>Eiropas Komisijas tīmekļa vietni latviešu valodā</p>
28	<p>Nākamās Eiropas Parlamenta vēlēšanas notiks:</p>	<p>2019. gada 25. maijā</p>
29		<p>2018. gadā Latvijā un visā Eiropā atzīmē Kultūras mantojuma gadu. Tā mērķis ir mudināt atklāt un iepazīt Eiropas kultūras mantojumu un stiprināt izjūtu, ka esam piederīgi kopīgai Eiropas ģimenei</p>
30	<p>Eiropas Savienība ir:</p>	<p>valstu ekonomiska un politiska apvienība. Tā darbojas uz līgumu pamata, kuros noteikti svarīgākie kopīgie mērķi un uzdevumi</p>
31	<p>Cik Latvijas vēstniecību darbojas Eiropas Savienības dalībvalstīs?</p>	<p>17</p>
32	<p>Atzīmē pareizo apgalvojumu!</p>	<p>Eiro banknošu dizaina autors ir Roberts Kalina (Robert Kalina) no Austrijas Nacionālās bankas. Viņš piedāvāja eiro banknošu dizainā attēlot dažādu Eiropas vēstures periodu arhitektūras stilus</p>